
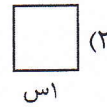
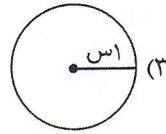
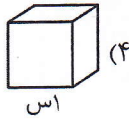


(ریاضی) (زمان: ۲۵ دقیقه)

۱. کدام گزینه به عنوان واحد اندازه‌گیری سطح مناسب‌تر است؟



۲. کدام گزینه درست است؟

(۴) $\frac{3}{5} < \frac{3}{8}$

(۳) $\frac{4}{5} < \frac{4}{7}$

(۲) $\frac{57}{100} < \frac{57}{100}$

(۱) $\frac{3}{100} > \frac{2}{3}$

۳. دمای هوای سنندج ۱۰ درجه زیر صفر است و دمای هوای یزد ۳۰ درجه گرم‌تر از دمای هوای سنندج است. میانگین دمای این دو شهر کدام است؟

(۴) ۵ درجه

(۳) ۷ درجه

(۲) ۱۵ درجه

(۱) ۱۲ درجه

۴. اگر سه رأس مثلثی نقاط $A = \begin{bmatrix} 1 \\ 1 \end{bmatrix}$ ، $B = \begin{bmatrix} 7 \\ 1 \end{bmatrix}$ و $C = \begin{bmatrix} 4 \\ 5 \end{bmatrix}$ باشد، نام این مثلث چیست؟

(۲) مثلث قائم‌الزاویه متساوی‌الساقین

(۱) مثلث متساوی‌الساقین

(۴) مثلث قائم‌الزاویه

(۳) مثلث متساوی‌الاضلاع

۵. محیط دایره‌ای به شعاع ۲ متر با تقریب کمتر از ۱٪ به روش گرد کردن چند متر است؟

(۴) $12/5$

(۳) $12/6$

(۲) ۱۳

(۱) ۱۲

۶. اختلاف بزرگ‌ترین عدد چهار رقمی صحیح منفی و کوچک‌ترین عدد سه رقمی صحیح منفی کدام است؟

(۴) ۱۰۰

(۳) ۹۰۰

(۲) ۹۰۰۰

(۱) ۱

۷. حاصل ضرب $60000 \times \frac{1}{3} \times \frac{2}{10}$ چند رقمی خواهد بود؟

(۴) ۶

(۳) ۵

(۲) ۴

(۱) ۳

۸. پس از ثبت هر شرکت باید ۲٪ درصد از سرمایه‌ی ثبت شده را به عنوان مالیات پرداخت کرد. شرکتی که با سرمایه‌ی

اولیه‌ی ۲۰۰۰۰۰۰ تومان ثبت شده است. چند تومان باید مالیات پردازد؟

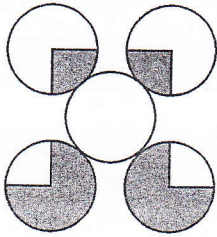
(۴) ۲۰۰۰

(۳) ۴۰۰۰

(۲) ۲۰۰۰۰


(۱) ۴۰۰۰۰۰

۹. چه کسری از شکل زیر رنگی است؟



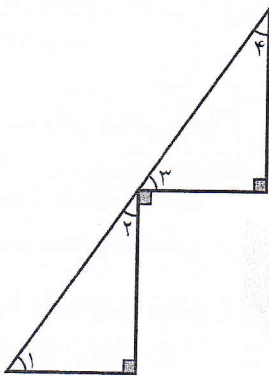
- (۱) $\frac{1}{2}$
 (۲) $\frac{8}{12}$
 (۳) $\frac{2}{5}$
 (۴) $\frac{1}{3}$

۱۰. در شکل زیر چند پاره خط دیده می شود؟



- (۱) ۹
 (۲) ۱۶
 (۳) ۷
 (۴) ۵

۱۱. با توجه به شکل زیر چند تا از رابطه های زیر درست است؟



(۴) ۴

(۳) ۳

(۲) ۲

(۱) ۱

(الف) زوایای ۱ و ۲ متمم هستند.

(ب) زوایای ۲ و ۴ متمم هستند.

(ج) زوایای ۲ و ۳ متمم هستند.

(د) زوایای ۱ و ۴ متمم هستند.

۱۲. بنیامین ۳۰۰۰ تومان پول داشت او نصف پولش را خرج کرد و خمس باقی مانده ی پولش را به برادرش داد. چند تومان

برایش باقی مانده است؟

(۴) ۱۲۰۰

(۳) ۱۰۰۰

(۲) ۱۱۰۰

(۱) ۹۰۰

۱۳. دو چرخ با یک تسمه به هم متصل شده اند. شعاع چرخ کوچک $\frac{2}{1}$ متر و شعاع چرخ بزرگ $\frac{2}{8}$ متر می باشد. اگر چرخ

کوچک ۸۰ دور بزند، چرخ بزرگ چند دور خواهد زد؟

(۴) ۶۰

(۳) ۵۰

(۲) ۴۰

(۱) ۳۰

۱۴. در جنگلی روی هم ۱۲ روباه و طوطی وجود دارد. اگر تعداد پاهای آن ها روی هم ۳۴ تا باشد. در جنگل چند طوطی وجود دارد؟

(۴) ۸

(۳) ۷

(۲) ۶

(۱) ۵



۱۵. چند عدد طبیعی داریم که با تقریب کم‌تر از ۱۰۰ به روش قطع کردن برابر ۱۰۰ شوند؟

- ۹۰ (۱) ۱۰۰ (۲) ۹۹ (۳) ۱۰۱ (۴)

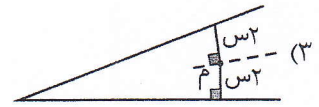
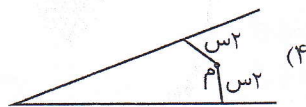
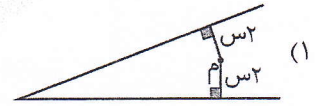
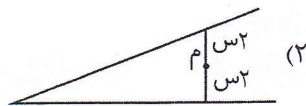
۱۶. خارج قسمت و باقی‌مانده‌ی تقسیم $۵۷ \div ۵$ به ترتیب کدام است؟

- ۱ (۱) $۷۶/۳$ ، $۰/۳$ ۲ (۲) $۷۶/۳$ ، $۰/۰۰۹$ ۳ (۳) $۷۵/۹$ ، $۰/۰۰۳$ ۴ (۴) $۷۵/۹$ ، $۰/۰۳۷$

۱۷. زمینی به مساحت ۳۶ مترمربع داریم و در این زمین به ضخامت ۲ متر خاک می‌ریزیم. حجم خاک زمین چند دسی‌متر مکعب است؟

- ۱ (۱) $۰/۰۷۲$ ۲ (۲) ۷۲۰۰۰ ۳ (۳) ۳۶۰۰۰ ۴ (۴) $۰/۰۳۶$

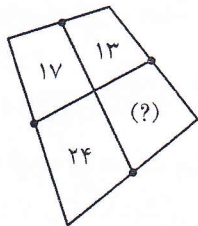
۱۸. اگر نقطه‌ای روی نیم‌ساز یک زاویه قرار گیرد، فاصله‌ی آن نقطه تا دو ضلع زاویه برابر است. با توجه به این موضوع تعیین کنید در کدام یک از شکل‌های زیر نقطه‌ی (م)، حتماً روی نیم‌ساز زاویه قرار دارد؟



۱۹. در یک باغ که دارای درخت‌های سیب، گلابی و هلو می‌باشد. نسبت درخت سیب به درخت گلابی مثل ۲ به ۳ و نسبت درخت گلابی به درخت هلو مثل ۳ به ۴ می‌باشد. اگر ۱۱۷ درخت در این باغ وجود داشته باشد، چه تعدادی از آن‌ها درخت هلو می‌باشد؟

- ۱ (۱) ۳۹ ۲ (۲) ۵۲ ۳ (۳) ۲۶ ۴ (۴) ۸۴

۲۰. در چهارضلعی زیر وسط ضلع‌های مقابل را به یکدیگر وصل کرده‌ایم. مساحت هر قسمت را درون آن نوشته‌ایم. مساحت قسمت خواسته شده چه قدر است؟



- ۱ (۱) ۱۸
۲ (۲) ۱۹
۳ (۳) ۲۰
۴ (۴) ۲



قرآن و هدیه‌های آسمان (زمان: ۱۰ دقیقه)

۲۱. معنای کدام کلمه درست است؟

- (۱) نِسَاء: مردم (۲) جُنُود: فرشتگان (۳) اِتَّقُوا: تقوا پیشه کنید (۴) نَذِير: بشارت‌دهنده

۲۲. پیام عبارت قرآنی «كُلُّ امْرِئٍ مَّا كَسَبَ رَهِيْنٌ» چیست؟

- (۱) هر کاری که انجام دهیم، نتیجه‌ی آن به خود ما بر می‌گردد.
 (۲) ما باید در صبح و عصر، خدای بزرگ را تسبیح و عبادت کنیم.
 (۳) هر کس که تقوا و پرهیزکاری پیشه کند، وارد بهشت می‌شود.
 (۴) عیب‌جویی از دیگران و صدا کردن آن‌ها با نام‌های زشت، گناه است.

۲۳. کدام یک از آیه‌های زیر، به اصل «توحید» از اصول اعتقادی ما مسلمانان، اشاره دارد؟

- (۱) اِنَّ اللّٰهَ هُوَ الرَّزّٰقُ ذُو الْقُوَّةِ الْمَتِيْنُ
 (۲) اِنَّ اللّٰهَ يَعْزِمُ عَنِّي السَّمٰوٰتِ وَالْاَرْضِ
 (۳) اِنَّ فِيْ ذٰلِكَ لَرَحْمَةً وَّ ذِكْرًا لِّقَوْمٍ يُؤْمِنُوْنَ
 (۴) اِلَهُكُمْ اِلٰهٌ وَّاحِدٌ لَا اِلٰهَ اِلَّا هُوَ الرَّحْمٰنُ الرَّحِيْمُ

۲۴. در کدام گزینه تعداد حروف ناخوانا بیش تر است؟

- (۱) وَ جَنَى الْجَنَّتَيْنِ دَانٍ
 (۲) يَخْرُجُ مِنْهُمَا اللُّؤْلُؤُ وَالْمَرْجَانُ
 (۳) وَ لَهُ الْجَوَارِ الْمُنشَآتُ فِي الْبَحْرِ كَالْاَعْلَامِ
 (۴) وَ اَقِيْمُوا الْوَزْنَ بِالْقِسْطِ

۲۵. آیه‌ی نورانی «لَوْ كَانَ فِيْهِمَا آلِهَةٌ اِلَّا اللّٰهَ لَفَسَدَتَا» به کدام مفهوم اشاره می‌کند؟

- (۱) فقط یک خدا جهان را اداره می‌کند.
 (۲) خداوند بر انجام هر کاری توانا است.
 (۳) اگر خداوند نبود، آسمان و زمین به هم می‌ریخت.
 (۴) فقط خدای یکتا است که آسمان و زمین را آفریده است.

۲۶. کسانی که قدرت خدا را کم و ناچیز می‌شمارند

- (۱) دوست ندارند به جهان آخرت وارد شوند.
 (۲) نسبت به وقوع قیامت شک می‌کنند.
 (۳) در قیامت به آن‌ها فرصت داده می‌شود.
 (۴) در همین دنیا زندگی‌شان پایان می‌یابد.

۲۷. آیه‌ی نورانی «مُحَمَّدٌ رَسُوْلُ اللّٰهِ وَ الَّذِيْنَ مَعَهٗ اَشْدَآءُ عَلٰى الْكٰفِرِيْنَ رُحَمَآءٌ بَيْنَهُمْ» به کدام یک از وظایف دینی ما مسلمانان اشاره دارد؟

- (۱) نماز و روزه (۲) تولی و تبری (۳) خمس و زکات (۴) جنگ و مبارزه

۲۸. با توجه به حدیث پیامبر اکرم (ص) خداوند کدام یک از افراد زیر را دشمن می‌دارد؟

- (۱) کسی که با دیگران شوخی می‌کند.
 (۲) کسی که با دیگران با ترش‌رویی دیدار می‌کند.
 (۳) کسی که به دیدار آشنایان خود نمی‌رود.
 (۴) کسی که در سلام کردن بر دیگران پیشی نمی‌گیرد.

۲۹. اگر روزه‌دار پیش از ظهر به جایی برسد که می‌خواهد ده روز در آن جا بماند، روزه‌ی او چه حکمی دارد؟

- (۱) باید پیش از ظهر روزه‌ی خود را باطل کند و بعد قضا‌ی آن را بگیرد.
 (۲) باید تا هنگام ظهر روزه‌ی خود را بگیرد و بعد قضا‌ی آن را بگیرد.
 (۳) اگر کاری که روزه را باطل می‌کند، انجام نداده، باید آن روز را روزه بگیرد.
 (۴) پس از رسیدن به آن محل، باید روزه‌ی خود را بخورد.

۳۰. روز بسیج دانش‌آموزی، چه روزی است؟

- (۱) آغاز جنگ تحمیلی (۲) شهادت جمعی از رزمندگان (۳) شهادت حسین فهمیده (۴) یادبود شهدای گمنام



علوم (زمان: ۲۰ دقیقه)

۳۱. اگر بخواهید تأثیر جنس مایعات در سرعت تبخیر آن‌ها را بررسی کنید کدام آزمایش را انجام می‌دهید؟

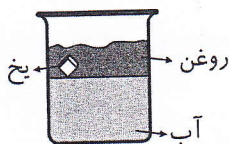
(۱) لیتر آب لیتر الکل
و هر دو مایع را در جلوی آفتاب قرار می‌دهیم.

(۲) لیتر آب لیتر الکل
و هر دو مایع را جلوی آفتاب قرار می‌دهیم.

(۳) لیتر آب لیتر الکل
آب را در آفتاب و الکل را در سایه قرار می‌دهیم.

(۴) لیتر آب نیم لیتر الکل
هر دو را در آفتاب قرار می‌دهیم.

۳۲. با توجه به شکل، کدام مقایسه درباره‌ی چگالی این سه ماده درست است؟



(۱) یخ > روغن > آب

(۲) روغن > یخ > آب

(۳) یخ > آب > روغن

(۴) آب > یخ > روغن

۳۳. برای تهیه‌ی ۱۰۰۰ جلد دفتر ۱۰ برگ باید تقریباً ۳ درخت قطع شود. یک دانش‌آموز در طول سال تحصیلی، ۲ دفتر

۸۰ برگ، ۳ دفتر ۱۰ برگ و یک دفتر ۴۰ برگ نیاز دارد. برای تأمین دفترهای موردنیاز او و ۹۹ دانش‌آموز دیگر آن

مدرسه چند درخت باید قطع شود؟

(۱) ۱/۵ (۲) ۲ (۳) ۳ (۴) ۶

۳۴. ملاک تقسیم‌بندی لایه‌های درونی زمین به ۵ بخش چیست؟

(۱) حالت مواد (۲) جنس و حالت مواد (۳) جنس و ترکیب شیمیایی (۴) حالت و ترکیب شیمیایی

۳۵. سیبی از یک درخت آویزان است و حرکتی ندارد؛ بنابراین نتیجه‌ی می‌گیریم که.....

(۱) هیچ نیرویی بر آن وارد نمی‌شود. (۲) مجموع نیروهای وارد بر آن صفر است.
(۳) فقط نیروی جاذبه‌ی زمین به آن وارد می‌شود. (۴) وزن سیب کم است.

۳۶. کدام سنگ به عنوان ساینده در صنایع چوب کاربرد دارد؟

(۱) پوک‌هی معدنی (۲) توف (۳) سنگ پا (۴) گرانیت

۳۷. در کدام یک از پدیده‌های زیر یک نیروی غیر تماسی نقش آفرینی می‌کند؟

- (۱) افتادن برگ از درخت
(۲) دفع کردن قطب‌های هم‌نام آهن‌ریا
(۳) حرکت ماهواره به دور زمین
(۴) همه‌ی موارد

۳۸. چند جسم باید با هم بر هم کنش داشته باشند تا نیرو ظاهر شود؟

- (۱) حداقل دو جسم
(۲) حتماً دو جسم
(۳) حتماً بیش از دو جسم
(۴) حداقل دو جسم و حداکثر چهار جسم

۳۹. دو آهن‌ریا را در نزدیکی هم قرار می‌دهیم. مشاهده می‌کنیم که یک‌دیگر را جذب می‌کنند. در این صورت حتماً

- (۱) آهن‌ریاها دارای بار الکتریکی بوده‌اند.
(۲) آهن‌ریاها از نظر ظاهری دقیقاً شبیه هم بوده‌اند.
(۳) قطب‌های هم‌نام آهن‌ریاها روبه‌روی هم قرار گرفته است.
(۴) قطب‌های ناهم‌نام آهن‌ریاها روبه‌روی هم قرار گرفته است.

۴۰. علت رخ دادن کدام پدیده با سایر گزینه‌ها تفاوت دارد؟

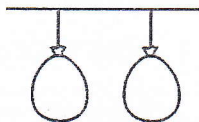
- (۱) چسبیدن بادکنک به دیوار
(۲) بلند شدن موی سر هنگام نزدیک کردن شانه‌ی پلاستیکی به آن
(۳) منحرف شدن آب شیر، هنگام نزدیک شدن شانه‌ی پلاستیکی استفاده شده به آن
(۴) جذب شدن دو قطب غیرهم‌نام آهن‌ریا به یکدیگر

۴۱. منشأ اصلی انرژی موجود در یک ساندویچ مرغ از کجاست؟

- (۱) گیاهان
(۲) جانوران
(۳) گیاهان و جانوران
(۴) خورشید

۴۲. اگر به فضای بین دو بادکنک که آن‌ها را مطابق شکل زیر، با فاصله‌ی کمی نسبت به یکدیگر آویخته‌ایم، بدمیم، فشار هوا

بین دو بادکنک می‌شود و دو بادکنک



- (۱) کم ، به سمت هم می‌آیند.
(۲) کم ، از هم دور می‌شوند.
(۳) زیاد ، به سمت هم می‌آیند.
(۴) زیاد ، از هم دور می‌شوند.

۴۳. بزرگ‌نمایی عدسی چشمی میکروسکوپی $8\times$ می‌باشد. این میکروسکوپ چهار عدسی شیئی با

- بزرگ‌نمایی‌های $20\times$ ، $40\times$ ، $100\times$ و $80\times$ دارد. حداکثر بزرگ‌نمایی این میکروسکوپ چه قدر است؟
(۱) ۱۰۰ برابر
(۲) ۸۰ برابر
(۳) ۸۰۰ برابر
(۴) ۶۰۰ برابر

۴۴. عامل کدام یک از بیماری‌های زیر باکتری است؟

- (۱) آبله مرغان
(۲) فلج اطفال
(۳) سرخک
(۴) سل

۴۵. کدام یک از جانداران زیر تولید کننده‌ی غذا محسوب می‌شوند؟

- (۱) زنبور عسل
(۲) گاو
(۳) جلبک
(۴) قارچ



مطالعات اجتماعی (زمان: ۱۰ دقیقه)

۴۶. کدام یک از بیت‌ها یا جمله‌های زیر تأثیر اخلاق و رفتار دوستان بر یک‌دیگر را بیان می‌کند و از چه کسی است؟

- (۱) دوست خوب کسی است که حقوق دوست خود را رعایت کند و با او یک‌رو باشد: حضرت علی (ع)
- (۲) دوست کسی است که در پشت سر هم صادق باشد: حضرت محمد (ص)
- (۳) تو اول بگو با کیان زیستی / من آن‌گه بگویم که تو کیستی: سعدی
- (۴) دوست آن باشد که گیرد دست دوست / در پریشان حالی و درماندگی: سعدی

۴۷. کدام یک از موارد زیر از ویژگی‌های کشت گلخانه‌ای نیست؟

- (۱) در همه‌ی فصول سال، هر محصول را در هر منطقه‌ی آب و هوایی در آن کشت می‌کنند.
- (۲) گرما، نور و رطوبت را متناسب با نوع محصول در آن تنظیم می‌کنند.
- (۳) انواع میوه و سبزیجات و گل و گیاهان زینتی را در آن پرورش می‌دهند.
- (۴) در مقایسه با سایر کشت‌ها، آب بیش‌تری مصرف می‌کند.

۴۸. بیش‌تر منابع نفتی کشورمان در کدام قسمت‌ها ذخیره شده است؟

- (۱) غرب استان کرمانشاه و اطراف قم و تهران
- (۲) در جنوب خلیج فارس و دریای خزر و استان خوزستان
- (۳) جنوب غربی استان خوزستان و قسمت‌های جنوبی دریای خزر
- (۴) غرب استان کرمانشاه و جنوب غربی استان خوزستان و خلیج فارس

۴۹. ابوریحان بیرونی در سال ۳۶۲ هجری به دنیا آمد و در سال ۴۴۰ هجری از دنیا رفت. او در به دنیا آمد و در از دنیا رفت.

- (۱) نیمه‌ی اول قرن سوم ، نیمه‌ی دوم قرن چهارم
- (۲) نیمه‌ی اول قرن چهارم ، نیمه‌ی دوم قرن پنجم
- (۳) نیمه‌ی دوم قرن سوم ، نیمه‌ی اول قرن چهارم
- (۴) نیمه‌ی دوم قرن چهارم ، نیمه‌ی اول قرن پنجم

۵۰. همزمان با ساخت کدام مسجد معادن سنگ مرمر اصفهان کشف شد و کدام مورد از ویژگی‌های این مسجد است؟

- (۱) مسجد شیخ لطف‌الله ، ساخت این مسجد ۱۸ سال طول کشید.
- (۲) مسجد امام ، چهار ایوان در چهار جهت جغرافیایی دارد.
- (۳) مسجد شیخ لطف‌الله ، چهار ایوان در چهار جهت جغرافیایی دارد.
- (۴) مسجد امام ، ساخت این مسجد ۱۸ سال طول کشید.

۵۱. تصویر زیر نمونه‌ی لباس مربوط به کدام دوره از تاریخ ایران می‌باشد؟

- (۱) نادری
- (۲) قاجار
- (۳) صفوی
- (۴) ساسانی



۵۲. کدام یک از موارد زیر درست است؟

- (۱) به پیشروی خشکی در آب دریاها خلیج می گویند.
 (۲) بریدگی های عمیق کناره ی دریای خزر را خور می گویند.
 (۳) به راهی که دو دریا را به هم وصل می کند تنگه می گویند.
 (۴) ساحل خلیج فارس از دهانه ی اروندرود تا بندرعباس است.

۵۳. شناسنامه ی خارجی هر فرد و به اجازه ی ورود به کشور دیگر می گویند.

- (۱) گذرنامه ، روادید (۲) روادید ، ویزا (۳) گذرنامه ، پاسپورت (۴) ویزا ، پاسپورت

۵۴. رود اترک مرز میان ایران و کدام کشور همسایه را نشان می دهد این کشور در کدام قسمت ایران واقع شده است؟

- (۱) ارمنستان، شمال غربی (۲) پاکستان، جنوب شرقی
 (۳) افغانستان، مشرق (۴) ترکمنستان، شمال شرقی

۵۵. خرمشهر در چه تاریخ و عملیاتی آزاد شد؟

- (۱) ۳ خرداد ۱۳۶۱، بیت المقدس (۲) ۳ خرداد ۱۳۶۱، فتح المبین
 (۳) ۲۲ خرداد ۱۳۶۱، بیت المقدس (۴) ۲۲ خرداد ۱۳۶۱، فتح المبین

فارسی (زمان: ۱۵ دقیقه)

۵۶. تعداد جمله ها در کدام یک از بیت های زیر نادرست است؟

- (۱) بی یاد تو نیست هیچ مرغی در سبزه و باغ و بوستان ها (یک)
 (۲) باد بهاری وزید از طرف مرغزار باز به گردون رسید ناله ی هر مرغ زار (دو)
 (۳) خیز و غنیمت شمار، جنبش باد ربیع ناله ی موزون مرغ، بوی خوش لاله زار (سه)
 (۴) سیمرغ و عقاب و باز و شاهین ذکر تو کند در آشیان ها (یک)

۵۷. معنی کدام گروه از کلمه های زیر درست نیست؟

- (۱) جبریل (فرشته ی وحی)، ملائک (فرشتگان)، مقرب (نزدیک)
 (۲) بوستان (باغ گل)، آشیان (لانه)، بدرقه (استقبال کردن)
 (۳) کاروان (قافله)، شاهین (نوعی پرنده ی شکاری)، خالق (آفریدگار)
 (۴) سپاس داری (سپاس گزاری)، اندیشه کردن (فکر کردن)، مخلوق (آفریده شده)

۵۸. با توجه به جمله های (اندیشه کردن اندر کار خالق و مخلوق، روشنایی افزایش اندر دل) (هر گل و برگی که هست، یاد خدا می کند) (هر ورقش دفتری ست، معرفت کردگار) (باز به گردون رسید ناله هر مرغ زار) (شکر نعمت، نعمت افزون

کند) ترتیب عناصر ادبی در کدام گزینه، درست است؟

- (۱) تشبیه، جان بخشی به اشیا، تشبیه، کنایه، ضرب المثل
 (۲) تضاد، جان بخشی به اشیا، تشبیه، کنایه، ضرب المثل
 (۳) تضاد، تشبیه، مبالغه، جان بخشی به اشیا، ضرب المثل
 (۴) تشبیه، تشبیه، مبالغه، جان بخشی به اشیا، ضرب المثل

۵۹. مفهوم عبارت «ما با شناخت خود و شناخت خلق و خلقت، سرانجام به خالق همه‌ی این‌ها ایمان می‌آوریم.» از کدام بیت،

دقیق‌تر دریافت می‌شود؟

- | | |
|-----------------------------|---------------------------|
| ۱) دل شود گر به علم بیننده | راه جوید به آفریننده |
| ۲) آن چه در علم بیش می‌باید | دانش ذات خویش می‌باید |
| ۳) علم، بال است مرغ جانت را | بر سپهر او برود، روانت را |
| ۴) دل بی‌علم، چشم بی‌نورست | مرد نادان ز مردمی دورست |

۶۰. معنی چند واژه نادرست است؟

(طعام: غذا)، (آداب: رسم‌ها)، (فراخ: وسیع)، (اعتدال: ارزشمند)، (تعَلَل: درنگ کردن)، (فارغ: آسوده)، (ایشار: از خودگذشتگی)، (خوان: غذا)

- ۱) دو ۲) یک ۳) سه ۴) چهار

۶۱. چند خان از هفت خان رستم در زیر، نادرست توضیح داده شده است؟

«خان اول: کشتن شیر، خان دوم: برطرف شدن تشنگی رستم، خان سوم: از بین رفتن جادوگر، خان چهارم: کشتن اژدها، خان پنجم: اسیر شدن اولاد دیو، خان ششم: شکست ارژنگ دیو، خان هفتم: کشتن دیو سپید»

- ۱) یک ۲) دو ۳) چهار ۴) شش

۶۲. در عبارت زیر، نوع جمله‌ها از لحاظ پیام و محتوا، در کدام گزینه آمده است؟

«از حکیمی پرسیدند که چرا شنیدن تو از گفتن تو زیادت است؟ گفت: زیرا که مرا دو گوش داده‌اند و یک زبان، یعنی دو چندان که می‌گویی، می‌شنو.»

- ۱) خبری، پرسشی، خبری، خبری، خبری، خبری، عاطفی، خبری، خبری، خبری، خبری
 ۲) خبری، پرسشی، خبری، خبری، خبری، خبری، خبری، خبری، خبری، خبری
 ۳) امری، پرسشی، خبری، خبری، خبری، خبری، خبری، خبری، خبری، خبری
 ۴) امری، خبری، خبری، خبری، خبری، خبری، خبری، خبری، خبری، خبری

۶۳. عبارت «تدبیر ده تنه، چون زور ده مرده باشد.» با کدام گزینه ارتباط دارد؟

- ۱) اطلبوا العلم من المهد الى اللحد
 ۲) و شاورهم فی الامر
 ۳) اهدنا الصراط المستقیم
 ۴) و يطهرکم تطهیراً

۶۴. در جمله‌های زیر، چند غلط املائی وجود دارد؟

(در حجره‌های مختلف، علوم قدیم را فرا گرفتیم.) (مفصل‌ترین کتاب لغت در زبان فارسی است.) (طرز تلفظ صحیح همراه با اشعار دیگر آمده است.) (چه بارها که در شب از بستر برمی‌خواستیم.) (به هر نهو شده است با اسلحه‌ی تمدن جدید، مسلح گردد) (در این لحظات دهخدا سکوت را شکست) (او را باید از دانشمندان متأثر ایران دانست) (در مرحمت تو غوطه‌ور، روز و شبم)

- ۱) دو ۲) سه ۳) چهار ۴) یک

۶۵. اگر در هر ردیف، حرف نخست کلمه‌ها را برداریم، از راست به چپ کنار هم قرار دهیم تا یک واژه به دست آید، کلمه‌ی

موردنظر، در کدام گزینه نادرست است؟

- ۱) برادر، عماد، ثابت، تراب ← بعثت
 ۲) لار، مار، سامرا ← لمس
 ۳) غایب، راز، یاس، باغ ← غیاب
 ۴) مرد، حالا، نان، تماس ← محنت

۶۶. معنی کدام گزینه که در داخل پرانتز نوشته شده، درست است؟

(جور: ظلم و ستم) (بیخ: بُن) (جرم: گناه) (موسم: فصل، وقت) (توده: زیاد) (هیمه: هیزم) (آوخ: افسوس) (ادبار: بخت و اقبال) (ناچیزی: بی ارزش بودن)

(۱) شش (۲) هفت (۳) پنج (۴) هشت

۶۷. کدام بیت با عبارت زیر، ارتباط معنایی ندارد؟

«از تو رنجی به من نرسید ولیکن برای من از این بدتر چیست که جاهلی مرا بستاید.»

- (۱) دگر با خردمند مردم، نشین که نادان نباشد بر آیین و دین
 (۲) دشمن دانا که غم جان بود بهتر از آن دوست که نادان بود
 (۳) که دانا تو را دشمن جان بود به از دوست مردی که نادان بود
 (۴) بر مرد نادان نریزم علوم که ضایع شود تخم در شوره بوم

۶۸. با توجه به عبارت زیر، کدام گزینه درست است؟

«بعد رو کرد به شیخ: ای شیخ، مرا چیزی بیاموز. نصیحتی کن. امروزم را شاداب و شیرین کن. چنان که این کودکان

امروزشان با خلق خوش تو گوارا می شود. کودکان را چگونه بر سر عقل می آوری بی چوب، بی فلک؟»

- (۱) شیخ: متمم، شیخ: منادا، من (مرا): مفعول، امروز: قید (۲) امروز: قید، کودکان: نهاد، کودکان: مفعول، چوب: متمم
 (۳) شیخ: منادا، چیزی: مفعول، امروز: مفعول، خوش: صفت (۴) شیخ: نهاد، چیزی: مفعول، گوارا: نهاد، فلک: متمم

۶۹. سرایندهی کدام بیت، نادرست است؟

- (۱) هر آن کس که با تو نگوید درست چنان دان که او، دشمن جان توست ← فردوسی
 (۲) برگ درختان سبز در نظر هوشیار هر ورقش دفتری است معرفت کردگار ← سعدی
 (۳) جهانی بدین خوبی آراستی برون زآن که یاریگری خواستی ← نظامی
 (۴) پناه بلندی و پستی تویی همه نیستند، آنچه هستی تویی ← حافظ

۷۰. با توجه به عبارت زیر، نادان تر مردم، چه کسی است؟

«و مردمان را عیب مکنید که هیچ کس بی عیب نیست، هر که از عیب خود نابینا شد، نادان تر مردم باشد.»

- (۱) از دیگران عیب جویی می کند. (۲) عیب خود را نمی بیند.
 (۳) عیب دیگران را نمی بیند. (۴) مغرور و خودخواه است.

داوطلب گرامی

لطفاً شماره‌ی داوطلبی خود را به خاطر بسپارید. ساعاتی پس از برگزاری آزمون می‌توانید با وارد کردن شماره‌ی داوطلبی در سایت www.mobtakeran.com کارنامه‌ی خود را مشاهده کنید.