




بسته کمک به تحول آموزش و پرورش


پکتا



آزمون



آزمون نمره منفی دارد.



زمان: ۹۵ دقیقه

تعداد پرسش: ۸۵

تاریخ: ۹۴/۹/۲۷



1. Pooya: Hi, Amir. This is Sadra.

Sadra: Nice to meet you, Amir.

Amir:

1) Let's talk to him.

2) Good morning.

3) Nice to meet you, too.

4) Welcome to our school.

2. A:

B: Fourteen.

1) How are you?

2) How do you say it?

3) What about you?

4) How old are you?

3. A:

B: It's in Esfand.

1) How old are you?

2) What about you?

3) How are you?

4) When is your birthday?

4. A: is that man?

B: He's our English teacher.

1) Who

2) How

3) What

4) How old

5. How old are ?

1) she

2) he

3) you

4) I

۶. جاهای خالی را کامل کنید.

seventeen - - nineteen -

1) eighteen / twenty

2) sixteen / twenty

3) fifteen / thirty

4) eighteen / thirty

۷. کدام کلمه با بقیه تفاوت دارد؟

1) thirty

2) today

3) twelve

4) twenty



۸. کدام کلمه درست ترجمه نشده است؟

۱) اَلَّذِي: کسانی که

۲) هُوَ: او

۴) بِ: به

۳) اَلَا: آگاه باشید

۹. ترجمه درست کلمه‌های «كُم، مِن، فِي» در کدام گزینه آمده است؟

۱) آن‌ها، کسی که، بین

۲) آن‌ها، از، در

۳) شما، از، در

۴) شما، کسی که، بین





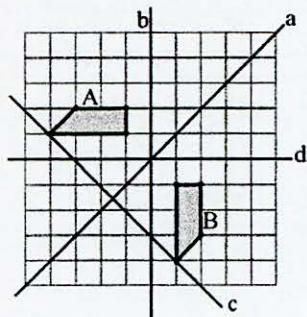
۱۰. عبارت «فَاعْبُدْهُ» در کدام گزینه درست ترجمه شده است؟
 (۱) پس عبادت می کنند او را
 (۲) پس عبادت می شود او
 (۳) پس عبادت می کنی او را
 (۴) پس عبادت کن او را
۱۱. عبارت «مِلَّةَ آبَائِي» به چه معناست؟
 (۱) دین پدرم
 (۲) آیین پدرانم
 (۳) ملت پدرم
 (۴) سرزمین پدرانم
۱۲. ترجمه درست کلمه های «جَنَات، عِبَاد، عُيُون» در کدام گزینه آمده است؟
 (۱) بهشت ها، مؤمنان، مثل ها
 (۲) آسمان ها، مؤمنان، مثل ها
 (۳) بهشت ها، بندگان، چشمه ها
 (۴) آسمان ها، بندگان، چشمه ها
۱۳. کدام عبارت، درباره زندگی رسول الله (ص) درست است؟
 (۱) کارهای شخصی خود را، خود انجام می داد.
 (۲) کارهای مهم و بزرگ را به دیگران می سپرد.
 (۳) در خانه، خدمتکارانی داشت که کارهایش را انجام می دادند.
 (۴) برخی از کارهای خود را به دیگران می سپرد.
۱۴. بر اساس سخن امام صادق (ع)، هر کس پیوند خود را با بستگانش محکم کند و با پدر و مادرش بسیار خوش رفتار و مهربان باشد
 (۱) دشواری های مرگ بر او آسان می شود و در دنیا هرگز فقیر و تهی دست نمی شود.
 (۲) در روز قیامت و ملاقات با خدا، توسط پیامبر به بهشت برده می شود.
 (۳) گناهان و زشتی ها از او دور شده، بهشت و خوبی به او نزدیک می شود.
 (۴) دنیای خود را ویران کرده ولی هنگام مرگ از ویرانی به آبادانی می رود.
۱۵. ایمان به کدام موارد باعث می شود تا زندگی راحتی برای ما در آخرت رقم بخورد؟
 (۱) توحید، زهد، ولایت (۲) ملائکه، نبوت، امامت (۳) توحید، نبوت، معاد (۴) عدل، جهاد، معاد
۱۶. کدام مورد، صدقه محسوب نمی شود؟
 (۱) کمک به یتیمان
 (۲) عبور دادن یک نابینا از خیابان
 (۳) کمک به نیازمندان
 (۴) رفع نیازهای خود
۱۷. یکی از ویژگی های بارز پیامبر اعظم (ص) پیش از مبعوث شدن به پیامبری بود و به همین دلیل در بین مردم به مشهور بود.
 (۱) مهربانی، رَحْمَةً لِّلْعَالَمِينَ
 (۲) اخلاق خوش، اُسْوَةٌ حَسَنَةٌ
 (۳) امانتداری، مُحَمَّدٌ اَمِينٌ
 (۴) داشتن معجزه، خاتم النَّبِيِّينَ





فصل های ۲ و ۳ و فصل ۴
اندازه گیری و هندسه اشکال هندسی

۱۸. شکل A قرینه شکل B است. خط تقارن مربوط به این قرینه کدام است؟



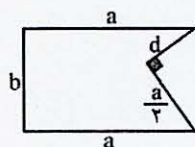
(۱) خط a

(۲) خط b

(۳) خط c

(۴) خط d

۱۹. در صورتی که $a = 8$ و $b = 5$ و $d = 3$ باشد، محیط شکل مقابل چند است؟



(۱) ۳۰

(۲) ۲۷

(۳) ۲۸

(۴) ۲۹

۲۰. ساده شده عبارت $3a(b-3) + 2b(4-3a)$ کدام است؟

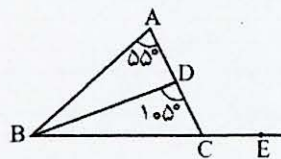
(۴) $8b - 9a - 3ab$

(۳) $6ab - 9a + 8b$

(۲) $3ab - 9a + 8b$

(۱) $-3 + 8b$

۲۱. در شکل مقابل؛ BD نیمساز زاویه B، $B\hat{D}C = 105^\circ$ و $B\hat{A}C = 55^\circ$ ، اندازه زاویه $E\hat{C}A$ چند درجه است؟



(۱) 145°

(۲) 15°

(۳) 135°

(۴) 155°

۲۲. در الگوی عددی زیر، جمله nام کدام است؟

۳, ۵, ۷, ۹, ...

(۴) $2n - 3$

(۳) $2n + 1$

(۲) $2n + 3$

(۱) $2n - 1$





۲۳. اداره هواشناسی شهر تبریز اعلام کرده است، دمای هوا از نیمه شب تا صبح در هر ساعت ۲ درجه سردتر خواهد شد. الان ساعت ۲ نیمه شب است، اگر دمای هوا در ساعت ۶ صبح به ۵ درجه زیر صفر برسد هم اکنون دما چند درجه است؟



- (۱) +۳
- (۲) -۱۳
- (۳) +۵
- (۴) -۱۵

۲۴. عدد مخلوط $3a \frac{3a-3}{b-1}$ را به کسر تبدیل می‌کنیم حاصل برابر کدام عبارت است؟ ($b \neq 1$)

$$\frac{3ab-4}{b-1} \quad (۴)$$

$$\frac{3ab-3}{b-1} \quad (۳)$$

$$\frac{3ab+2}{b-1} \quad (۲)$$

$$\frac{3ab-1}{b-1} \quad (۱)$$

۲۵. در کدام گزینه وجود پراتز تأثیری در پاسخ ندارد؟


$$8-4 \times (2-3) \quad (۴)$$

$$-12 \times (4-7) \quad (۳)$$

$$-8 + (3 \times 5) \quad (۲)$$

$$-40 \div (-10 \div 2) \quad (۱)$$

۲۶. در شکل زیر نقطه B وسط \overline{AM} و نقطه M وسط \overline{AD} است. با توجه به تساوی، در جای خالی کدام گزینه قرار می‌گیرد؟



$$\frac{1}{2} \overline{MD} + \dots = \overline{AD}$$

$$\overline{AM} \quad (۴)$$

$$\overline{BD} \quad (۳)$$

$$\overline{MD} \quad (۲)$$

$$\overline{AD} \quad (۱)$$

۲۷. «۱۲ برابر عددی را از ۷ کم کردیم حاصل از نصف عدد، ۲ واحد بیش‌تر شد» کدام معادله برای حل این مسئله نوشته می‌شود؟

$$7-12x = \frac{1}{2}x + 2 \quad (۴)$$

$$7x-12 = \frac{1}{2}x + 2 \quad (۳)$$

$$7-12x = \frac{1}{2}x + 1 \quad (۲)$$

$$12x-7 = \frac{1}{2}x + 2 \quad (۱)$$

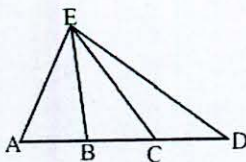
۲۸. در مثلث AED دو پاره‌خط \overline{EB} و \overline{EC} را طوری رسم می‌کنیم که $\overline{AB} = \overline{CD}$ ، کدام عبارت همواره درست است؟

$$\overline{AC} = \overline{BD} \quad (۱)$$

$$\overline{AE} = \overline{ED} \quad (۲)$$

$$\overline{AB} = \overline{BC} \quad (۳)$$

$$\overline{EC} = \overline{EA} \quad (۴)$$





۲۹. بر روی یک خط ۱۰۰ نقطه وجود دارد. با اضافه کردن یک نقطه متمایز دیگر چند پاره خط به کل پاره خط‌های موجود روی این خط اضافه می‌شود؟

۹۹ (۴)

۱۰۰ (۳)

۱۰۱ (۲)

۲۰۰ (۱)

۳۰. مونا از برادر خود ۲ سال کوچک‌تر است. پدرش ۵ برابر او و مادرش ۴ برابر او سن دارند. اگر مجموع سن این ۴ نفر ۹۰ سال باشد، مونا ۴ سال پیش چند ساله بوده است؟



۶ (۲)

۴ (۱)

۱۰ (۴)

۸ (۳)

۳۱. حقوق امیر هفته‌ای ۳۰۰ هزار تومان است علاوه بر آن ۵ درصد از کل فروش اینترنتی یک هفته شرکت را هم به عنوان پاداش دریافت می‌کند. اگر شرکت هفته‌ای n هزار تومان فروش اینترنتی داشته باشد، کدام عبارت جبری کل حقوق یک هفته امیر را بر حسب هزار تومان نشان می‌دهد؟



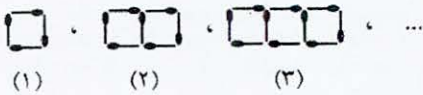
$۳۰۰n + ۵$ (۱)

$۳۰۰n + ۰/۰۵$ (۲)

$۳۰۰ + ۰/۰۵n$ (۳)

$۳۰۰ + ۵n$ (۴)

۳۲. الگوی زیر تا شکل n ام رسم شده است. در دو شکل آخر الگوی داده شده، مجموعاً ۵۹۹ عدد چوب کبریت استفاده می‌شود. مقدار n کدام است؟



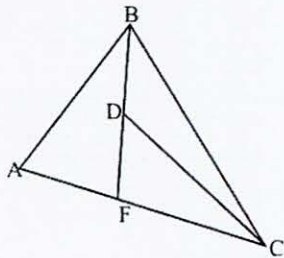
۳۰۰ (۲)

۹۹ (۱)

۱۰۰ (۴)

۳۰۱ (۳)

۳۳. با توجه به شکل روبه‌رو چه تعداد از عبارتهای زیر درست است؟



$AB + AF > BD + DF$ (الف)

$BC < DC + BD$ (ب)

$CF + BF < BC$ (ج)

۲ (۲)

۱ (۱)

صفر (۴)

۳ (۳)

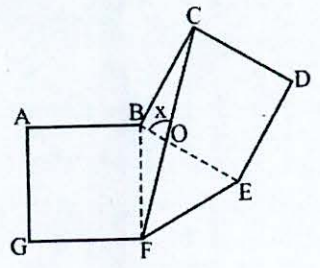


۳۴. در عبارت مقابل کدام گزینه را باید در \square قرار دهیم تا تساوی، برقرار باشد؟

$$-2(6a - (-2b + 1)) - \square - 2 = -6b - a$$

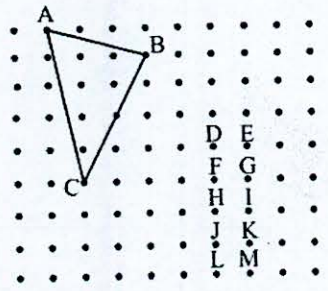
- (۱) $-17a + 6$ (۲) $-17a$ (۳) $-18a$ (۴) $-18a + 6$

۳۵. چند ضلعی ABCDEFG شامل دو مربع و یک مثلث متساوی الاضلاع است. اندازه زاویه $\hat{B}OC$ که با x مشخص شده است چند درجه است؟



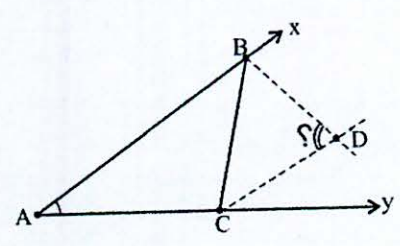
- (۱) 65°
 (۲) 70°
 (۳) 75°
 (۴) 80°

۳۶. مثلث ABC را نسبت به نقطه C به اندازه 90° در جهت عقربه‌های ساعت دوران می‌دهیم. تصویر نقاط A و B به ترتیب بر کدام یک از نقطه‌های نام گذاری مطابق خواهد شد؟



- (۱) J و D
 (۲) J و E
 (۳) L و G
 (۴) H و E

۳۷. در شکل مقابل \overline{BD} نیمساز زاویه $\hat{B}C$ و \overline{CD} نیمساز زاویه $\hat{B}C$ است. در صورتی که $\hat{A} = 40^\circ$ باشد، اندازه زاویه \hat{D} چند درجه است؟



- (۱) 60°
 (۲) 70°
 (۳) 80°
 (۴) 50°



۳۸. قانون اساسی کشور ما اصل دارد که پس از پیروزی انقلاب اسلامی توسط نوشته شد.
- (۱) ۱۷۷، نمایندگان مجلس شورای اسلامی
(۲) ۱۸۸، نمایندگان مجلس شورای اسلامی
(۳) ۱۸۸، مجلس خبرگان
(۴) ۱۷۷، مجلس خبرگان
۳۹. کدام مورد از عوامل تولید، جزو منابع طبیعی محسوب نمی‌شود؟
- (۱) نفت و گاز (۲) مس (۳) خاک (۴) زمین و ساختمان
۴۰. در قانون اساسی هر کشور، موارد زیر معین شده است به جز... .
- (۱) مهم‌ترین حقوق ملت (۲) مهم‌ترین روابط و وظایف حکومت
(۳) مهم‌ترین دستورات مذهبی و اخلاقی (۴) مهم‌ترین روابط و وظایف مردم
۴۱. ندای امداد برای کمک به حادثه دیدگان کوهستان و جاده مربوط به کدام مؤسسه است و تلفن آن چیست؟
- (۱) آتش‌نشانی، ۱۱۲ (۲) اورژانس، ۱۱۵ (۳) هلال احمر، ۱۱۵ (۴) هلال احمر، ۱۱۲
۴۲. از نظر قرآن کریم، نجات جان یک نفر مانند چیست؟
- (۱) نجات کره زمین (۲) نجات گنه‌کاران از جهنم
(۳) نجات مستضعفان از دست ظالمان (۴) نجات جان همه مردم
۴۳. در داستان پیرمرد نصرانی و امام علی(ع) به کدام نوع از بیمه اشاره شده است؟
- (۱) بیمه عمر (۲) بیمه بهداشت و درمان (۳) بیمه از کارافتادگی (۴) بیمه شخص ثالث
۴۴. کدام مؤسسه برای جبران خسارت‌های مالی و جانی به وجود آمده است؟
- (۱) هلال احمر (۲) بیمه (۳) صلیب سرخ (۴) استاندارد
۴۵. کدام یک از مشاغل زیر به ترتیب در گروه‌های کشاورزی، صنعت و خدمات قرار دارند؟
- (۱) پرورش زنبور عسل، میل‌سازی، بیمه (۲) گل‌فروشی، تولید ماکارونی، قالیشویی
(۳) کمپوت‌سازی، تعمیر کامپیوتر، پلیس +۱۰ (۴) دامداری، تولید قارچ، مهمانسرا
۴۶. چه چیزی باعث به وجود آمدن تقسیم کار در جامعه شد و نقش کدام عامل در تولید بسیار مهم است؟
- (۱) رونق کشاورزی، منابع طبیعی (۲) آغاز زندگی گروهی، منابع طبیعی
(۳) آغاز زندگی گروهی، انسان (۴) رونق کشاورزی، انسان
۴۷. همهٔ مؤسسات بیمه زیر نظر فعالیت می‌کنند.
- (۱) بیمه‌گراها (۲) مؤسسات بیمه (۳) دولت (۴) بیمه مرکزی

۴۸. ترجمه کدام عبارت درست است؟

- (۱) «عددُ المسافرين في الفندقِ كثيرٌ»: تعداد مسافران در هتلها زیاد است.
- (۲) «هذه جائزةٌ ذهبيةٌ للفائز الأول»: این جایزه‌ای طلائی برای نفرات برتر است.
- (۳) «رُبَّ كلامٍ جوابُهُ السكوتُ»: چه بسا سخنی که جوابش سکوت است.
- (۴) «هؤلاء اللاعبون فائزون في مسابقتين»: این بازیکن در همه مسابقات برنده است.

۴۹. کدام جواب با سؤال داده شده تناسب دارد؟

- (۱) ما هي اللغة الرسمية في إيران؟ الفارسية.
- (۲) لمن هذا القلم؟ القلم هنا.
- (۳) هل هنا مدينة شيراز؟ في مدينة شيراز آثارٌ تاريخيةٌ.
- (۴) من تلك البنات؟ هو أخي.

۵۰. کدام گزینه نادرست است؟

- (۱) هذه الحقيبة لمريم.
- (۲) ذلك الرجل أخو رضا.
- (۳) تلك السيارة كبيرة.
- (۴) هؤلاء أخت مريم.

۵۱. در کدام گزینه یکی از دو ترجمه داده شده نادرست است؟

- (۱) «إن»: قطعاً، به راستی که
- (۲) «لِمَنْ»: مال چه کسی، مال چه کسانی
- (۳) «أفضل»: برتر، برترین
- (۴) «ماذا»: چرا، چه چیز

۵۲. در کدام گزینه، مفرد و مثنی درست به کار رفته است؟

- (۱) البنات و البنات
- (۲) الولد، الولدان
- (۳) الشاعرة و الشاعران
- (۴) الرجل و الرجال

۵۳. کدام کلمه برای جای خالی مناسب است؟ «القمرُ الجبال».

- (۱) خلف
- (۲) جنب
- (۳) فی
- (۴) مع

۵۴. کدام کلمه داخل پرانتز برای جای خالی عبارت هم از نظر لفظ و هم معنی مناسب است؟

- (۱) أولئك الأولاد ممتازون. (لاعبات)
- (۲) هاتان جميلتان. (وردتان)
- (۳) بمعنى الحديقة. (الصف)
- (۴) قيمة الإنسان بـ (سنه)

۵۵. کدام گزینه مفهوم مترادف دارد؟

- (۱) يسار: يمين
- (۲) أم: والدة
- (۳) رخيصة: غالية
- (۴) أفضل: أنفع



۵۶. کدام گزینه درست است؟

- (۱) استحکام فولاد کم تر از آهن است.
- (۲) علت تراکم پذیر بودن گازها، ربایش زیاد بین مولکول های آنها است.
- (۳) جامدهای فلزی نسبت به جامدهای نافلزی میزان انبساط بیش تری دارند.
- (۴) در حجم های مساوی تعداد ذره های یک ماده جامد با تعداد ذره های یک ماده گازی برابر است.

۵۷. با توجه به جدول زیر تعداد الکترون ها در کدام مولکول بیش تر است؟

نام اتم	هیدروژن	اکسیژن	کربن
تعداد الکترون	۱	۸	۶

- (۱) متان
- (۲) آب
- (۳) اکسیژن
- (۴) هیدروژن

۵۸. همان طور که می دانید آب از دو عنصر هیدروژن و اکسیژن تشکیل شده است تعداد ذره های هسته در ۳ مولکول آب برابر با چند است؟



۶۰ (۴)

۵۴ (۳)

۱۷ (۲)

۱۸ (۱)

۵۹. مریم در یک آزمایشی از یک ظرف ده لیتری حدود ۳ لیتر گاز را خارج نمود، گاز در داخل ظرف چند لیتر خواهد شد؟

۱۰ (۴)

۱۳ (۳)

۷ (۲)

۳ (۱)

۶۰. منبع تهیه کدام یک از مواد طبیعی زیر نادرست بیان شده است؟

- (۱) طلا به صورت تکه ها و رگه های درخشان در لابه لای برخی خاک ها
- (۲) الماس به صورت بلورهای زیبا در داخل سنگ های آتشفشان
- (۳) گوگرد به صورت بلورهای زرد رنگ در دهانه آتشفشان ها
- (۴) آهن به صورت رگه های فلزی در بین سنگ ها

۶۱. در بین عبارات های زیر چند عبارت درست است؟

- (آ) بیش تر مواد مورد استفاده ما در طبیعت یافت نمی شوند.
- (ب) در ساخت جلیقه های ضد گلوله از پلاستیک هایی که استحکام آنها چند برابر فولاد است، استفاده می شود.
- (پ) فلزها به دلیل تنوع ویژگی، کاربردهای وسیعی در زندگی دارند.
- (ت) سختی یک ماده یعنی مقاومت آن در برابر پاره شدن.
- (ث) با افزودن خاک رس به گرافیت، مقدار نرمی گرافیت افزایش یافته و کیفیت آن افزایش می یابد.

۵ (۴)

۴ (۳)

۳ (۲)

۲ (۱)

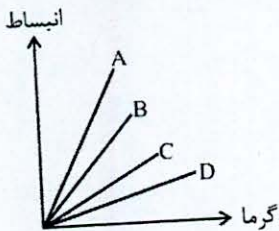




۶۲. در یکی از آزمایشات بخش شیمی در کتاب علوم هفتم، بادکنکی را بر دهانه یک ظرف پلاستیکی قرار داده و بدنه‌ی ظرف را در داخل آب داغ قرار می‌دهند. هدف از این آزمایش نشان دادن

- (۱) میزان انبساط هوای داخل ظرف در اثر گرما بوده است.
- (۲) افزایش جرم مولکول‌های هوای داخل ظرف در اثر گرما بوده است.
- (۳) مقدار تراکم‌پذیری در مولکول‌های هوای داخل ظرف در اثر گرما بوده است.
- (۴) تغییر حالت مولکول‌های هوای داخل ظرف در اثر گرما بوده است.

۶۳. نمودار روبه‌رو مربوط به میزان انبساط چهار ماده با گرمای یکسان و جرم برابر است. کدام یک از مواد می‌تواند مربوط به اکسیژن باشد؟



- A (۱)
- B (۲)
- C (۳)
- D (۴)

۶۴. سحر به کمک بطری شیشه‌ای و نی می‌خواهد یک دماسنج بسازد. او ابتدا در داخل بطری شیشه‌ای آب رنگی ریخت و سپس مطابق شکل نی را در داخل بطری قرار داد. با حرارت دادن بطری شیشه‌ای کدام یک از موارد زیر اتفاق می‌افتد؟



- (۱) آب رنگی در نی بالا می‌رود.
- (۲) آب رنگی در نی به سمت پایین می‌آید.
- (۳) آب رنگی ابتدا در نی کمی پایین آمده و سپس بالا می‌رود.
- (۴) تغییری حجمی در آب داخل شیشه مشاهده نمی‌شود.

۶۵. کدام گزینه نادرست است؟

- (۱) در هسته همه اتم‌ها نوترون و پروتون وجود دارد.
- (۲) تعداد الکترون‌ها و پروتون‌ها در یک اتم خنثی با هم برابر است.
- (۳) ذره‌های سازنده فلز، اتم است.
- (۴) گاز کلر یک نافلز سمی است که ساختار مولکولی دارد.

۶۶. از حرارت دادن سنگ آهک کدام ماده یا مواد حاصل می‌شود؟

- (۱) آهک و کربن دی‌اکسید
- (۲) آهک و کربن منو اکسید
- (۳) محلول آب، آهک و خاک رس
- (۴) آهک و اکسیژن

۶۷. کدام گزینه درست است؟

- (۱) دور ریختن قوطی‌های فلزی نمونه‌ای از کاهش مصرف است.
- (۲) کاهش عمر محصولات مصنوعی ساخته شده باعث حفاظت از منابع طبیعی می‌شود.
- (۳) ریختن حیوانات در ظرف شیشه‌ای سسی که تمام شده و آن را شسته‌ایم، مصرف دوباره است.
- (۴) استفاده از زنبیل پارچه‌ای به جای کیسه‌ی پلاستیکی خرید از مفاهیم بازیافت محسوب می‌شود.





۶۸. برای جدا کردن آهن از سنگ معدن آن، سنگ معدن آهن را به کوره‌های ذوب وارد می‌کنند. اضافه کردن کدام یک از مواد زیر به

سنگ معدن آهن، نقش مهم‌تری دارد؟

- (۱) کربن دی‌اکسید (۲) کک (۳) بوراکس (۴) آهک

۶۹. ماده اولیه کدام یک از مواد زیر با بقیه متفاوت است؟

- (۱) ظروف سفالی (۲) بشقاب چینی (۳) بطری شیشه‌ای (۴) سرامیک

۷۰. کدام گزینه نادرست است؟

(۱) سیمان ماده طبیعی است که مخلوطی از رس و کلسیم اکسید است.

(۲) ماسه ماده‌ای با ذوب خمیری است.

(۳) بازیافت آلومینیم نسبت به آهن در کاهش آلودگی هوا و آب مؤثرتر است.

(۴) اضافه شدن اکسیدهای فلزی به لعاب، آن را رنگی می‌کند.

فارسی (زمان: ۱۵ دقیقه)

۷۱. با کدام فعل زیر می‌توان جمله‌ای ساخت که به مفعول نیاز نداشته باشد؟

- (۱) گفته‌ای (۲) رفتند (۳) می‌خریدیم (۴) نوشته بود

۷۲. «تشبیه» در کدام بیت به کار نرفته است؟

- (۱) روشن و گرم و زندگی‌پرداز
 (۲) دانه‌ها چون در زمین پنهان شود
 (۳) این زندگی، حلال کسانی که همچو سرو
 (۴) من اینجا چون نگهبانم؛ تو چون گنج
- آسمان مثل یک تبسم شد
 سر آن، سرسبزی بستان شود
 آزاد، زیست کرده و آزاد می‌روند
 تو را آسودگی باید؛ مرا رنج


* حکایت زیر را بخوانید و پاسخ درست پرسش‌های ۷۳ و ۷۴ را مشخص کنید.

«از بایزید بسطامی، رحمة الله علیه، پرسیدند که ابتدای کار تو چگونه بود؟ گفت: من ده ساله بودم؛ شب از عبادت خوابم نمی‌برد. شبی مادرم از من درخواست کرد که امشب سرد است. نزد من بحسب مخالفت با خواهش مادر برایم دشوار بود؛ پذیرفتم. آن شب هیچ خوابم نبرد و از نماز شب بازماندم. یک دست بر دست مادر نهاده بودم و یک دست زیر سر مادر داشتم. آن شب هزار «قُلْ هُوَ اللهُ أَحَدٌ» خوانده بودم. آن دست که زیر سر مادرم بود، خون اندر آن خشک شده بود. گفتم: «ای تن، رنج از بهر خدای بکش». چون مادرم چنان دید. دعا کرد و گفت: «یا رب، تو از وی خشنود باش و درجتش، درجه اولیا گردان».

دعای مادرم در حق من مستجاب شد و مرا بدین جای رسانید.

۷۳. نقش دستوری کدام واژه مشخص شده در متن، متفاوت است؟

- (۱) مخالفت (۲) دعا (۳) خون (۴) تن





۷۴. هم خانواده کدام واژه در متن، نوشته نشده است؟

- (۱) عارف (۲) معبود (۳) ولی (۴) مرحوم

۷۵. در شیوه روایت «دانای کل» داستان از زبان چه کسی بیان می شود؟

- (۱) سوم شخص (۲) دوم شخص (۳) اول شخص (۴) قهرمان داستان

۷۶. مترادف واژه های «زلزال، بصیرت» در کدام گزینه درست نوشته شده است؟

- (۱) صافی، آگاهی (۲) صاف، بینش (۳) تمیز، دانا (۴) گوارا، هوشمند

۷۷. در کدام بیت یکی از «قافیه ها»، به صورت «نهاد» به کار رفته است؟

- (۱) کبوتر بچه ای با شوق پرواز
 (۲) گه از دیوار سنگ آمد، گه از در
 (۳) مرا در دام ها بسیار بستند
 (۴) ز وحشت سست شد بر جای ناگاه
- به جرئت کرد روزی بال و پر باز
 گهم سر پنجه خونین شد، گهی سر
 ز بالم کودکان پرها شکستند
 ز رنج خستگی درماند در راه

۷۸. در کدام یک از جمله های زیر، مفعول وجود دارد؟

- (۱) همه این آدم ها، درست توی نصف قلبم قرار گرفته اند.
 (۲) گوشه خالی قلبم را به چند نفر که دوست من بودند، دادم.
 (۳) باز هم، توی قلبم مقداری جای خالی مانده است.
 (۴) فقط یک جای خیلی خیلی کوچک در گوشه قلبم باقی مانده است.

۷۹. «جان بخشی» و «تشبیه» به ترتیب در کدام گزینه مشخص شده است؟

- الف) زندگی بر تو می زند لبخند
 ب) بانسیمی که زندگی در اوست
 پ) مثل یک شاخه گل، جوانه بز
 ت) روشن و گرم و زندگی پرداز
- هست وقت شکفتت امروز
 باز چشم جوانه ای و اشد
 مثل یک چشمه سار، جاری شو
 آسمان مثل یک تبسم شد
- (۱) پ، ت (۲) ب، الف (۳) الف، ب (۴) الف، ت

۸۰. معنی کدام یک از کلمه های زیر درست نیست؟

- (۱) رضایت: خشنودی (۲) ولو: فراوان (۳) واقعاً: به درستی (۴) شلوغ: پر سر و صدا

۸۱. کدام واژه «هم آوا» ندارد؟

- (۱) صلاح (۲) سفر (۳) قالب (۴) خواست





۸۲. در کدام یک از گزینه‌های زیر، غلط املایی وجود دارد؟

- ۱) قلب خالی مثل یک گلدان خالی، آدم را اذیت می‌کند.
- ۲) من باید عقلم می‌رسید و قلبم را به هر دو تاشان می‌دادم.
- ۳) آدم‌ها هیچ گله‌ای هم از تنگی جا نداشتند.
- ۴) قلبم را به همه قوم و خویش‌های خوبی که دارم، دادم.

۸۳. کدام کلمه زیر، هم می‌تواند «اسم» باشد و هم «فعل»؟

- ۱) درماند
- ۲) برید
- ۳) گذراند
- ۴) داد

۸۴. در کدام ترکیب زیر تشبیه وجود ندارد؟

- ۱) ستاره اشک
- ۲) شکوفه‌های دعا
- ۳) باغ آینه‌گون
- ۴) فضای خانه

۸۵. کدام معنی از بقیه دورتر است؟

- ۱) تقصیر
- ۲) سهل‌انگاری
- ۳) تأخیر کردن
- ۴) کوتاهی

داوطلب گرامر

لطفاً شماره داوطلبی خود را به خاطر بسپارید. ساعتی پس از برگزاری آزمون می‌توانید با وارد کردن شماره داوطلبی در سایت www.mobtakeran.com کارنامه خود را مشاهده کنید.

