




بگتا
بسته کمک به تحول آموزش و پرورش

آزمون

هشتم

آزمون نمره منفی دارد.



زمان: ۹۵ دقیقه

تعداد پرسش: ۸۵

تاریخ: ۹۵/۱/۲۷



علوم (زمان: ۲۰ دقیقه)

۱. نحوه تشکیل کدام یک از موارد زیر با بقیه متفاوت است؟

- (۱) تشکیل دانه گرده
 (۲) بزرگ شدن لکه‌های کوچک کپک روی نان
 (۳) افزایش تعداد باکتری‌های محیط
 (۴) ورآمدن خمیر نان

۲. تمام گزینه‌ها درباره لقاح خارجی درست بیان شده است به جز...

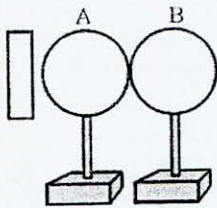
- (۱) تولید تعداد زیادی گامت
 (۲) رشد و نمو تخم بیرون از بدن مادر
 (۳) افزایش احتمال زنده ماندن تخم
 (۴) آبری بودن جانور

۳. کدام یک از گزینه‌های زیر باعث کاهش شدت جریان الکتریکی در یک مدار می‌شود؟

- (۱) ولتاژ
 (۲) آمپرسنج
 (۳) کلید قطع و وصل
 (۴) مقاومت الکتریکی

۴. مطابق شکل زیر، به دو کره فلزی خنثای A و B که روی پایه‌های عایقی قرار دارند، میله بارداری را نزدیک می‌کنیم. سپس بادکنکی را با موهای خود مالش داده و از سمت راست به کره B نزدیک می‌کنیم، بادکنک به آن می‌چسبد. کدام یک از

گزینه‌های زیر نوع بار و جنس میله باردار را به درستی بیان می‌کند؟



- (۱) منفی، میله شیشه‌ای
 (۲) مثبت، میله پلاستیکی
 (۳) مثبت، میله شیشه‌ای
 (۴) منفی، میله پلاستیکی

۵. کدام یک از کاربردهای مغناطیس نیست؟

- (۱) به کار گذاشتن الکتروود در مغز
 (۲) خارج کردن براده‌های آهن از چشم
 (۳) ساخت موتورهای الکتریکی
 (۴) بازیافت زباله‌های پلاستیکی

۶. یک آهن‌ربای تیغه‌ای را چهار تکه می‌کنیم، در این صورت چند قطب N خواهیم داشت؟

- (۱) ۱
 (۲) ۲
 (۳) ۴
 (۴) ۸

۷. کدام یک، از خواص فیزیکی شناسایی کانی‌ها نیست؟

- (۱) شکل بلور
 (۲) سختی
 (۳) چگالی
 (۴) مطالعه مقطع نازک

۸. از کدام کانی، در ساخت ساعت‌های بدون باتری استفاده می‌کنند؟

- (۱) مسکوویت
 (۲) فیروزه
 (۳) الماس
 (۴) کوارتز

۹. دمای نقطه‌ایی روی سطح زمین ۴۰ درجه سانتی‌گراد است. اگر در همان نقطه چاهی حفر کنیم، در عمق ۱۰۰ متری چاه، دما چند درجه سانتی‌گراد است؟

- (۱) ۱۴۰
 (۲) ۴۳
 (۳) ۱۷۰
 (۴) ۳۷



۱۰. کدام عامل، در دگرگونی سنگ‌ها نقشی ندارد؟
 (۱) فشار (۲) گرما (۳) تبخیر (۴) محلول‌های داغ
۱۱. کدام یک از سنگ‌های زیر، در نتیجه تبخیر و تبلور به وجود می‌آید؟
 (۱) بازالت (۲) ماسه سنگ (۳) سنگ گچ (۴) کنگلومرا
۱۲. در کدام یک از سنگ‌های زیر، اورانیم وجود دارد؟
 (۱) بازالت (۲) گرانیت (۳) مرمر (۴) تراورتن
۱۳. نوع هوازدگی در کدام یک، متفاوت است؟
 (۱) یخ بستن آب در شکاف سنگ‌ها (۲) خورد شدن سنگ‌ها در اثر رشد ریشه گیاهان
 (۳) تشکیل غارهای آهکی (۴) از بین رفتن آثار باستانی در شهرهای کویری
۱۴. در اثر انحلال سنگ‌های غار به وجود می‌آید.
 (۱) تبخیری (۲) آهکی (۳) آذرین (۴) دگرگونی
۱۵. مهم‌ترین عامل هوازدگی شیمیایی است.
 (۱) باد (۲) آب (۳) فشار (۴) رشد ریشه گیاهان

زبان انگلیسی (زمان: ۷ دقیقه)

16. A:

B: Yes, I like it very much.

- 1) What's your name?
 3) What do you do?

- 2) What's your hobby?
 4) Do you like reading?

17. A: Do you have any ?

B: Yes, I movies.

- 1) numbers / read 2) hobbies / watch

3) books / play

4) watches / news

18. Is there much rain the fall?

- 1) in 2) on

3) to

4) for

19. Many villagers animals in the village.

- 1) raise 2) tell

3) draw

4) worry

۲۰. کدام گزینه مربوط به تصویر داده شده است؟

- 1) plow
 2) river
 3) field
 4) village





۲۱. کدام گزینه با بقیه تفاوت دارد؟

- 1) listen 2) watch 3) news 4) go

۲۲. کدام گزینه به کلمه raise مربوط است؟

- 1) cattle 2) winter 3) ice 4) word

پنجاه سوالی تری

مطالعات اجتماعی (زمان: ۱۰ دقیقه)

۲۳. غازان خان با تشویق و راهنمایی وزیر خود اقدام به اصلاح امور اداری، مالی و قضایی کشور کرد و زمان او سَنب غازان در بنا شد.

- (۱) خواجه نظام الملک توسی، مراغه (۲) خواجه رشیدالدین فضل الله، مراغه
(۳) خواجه رشیدالدین فضل الله، تبریز (۴) خواجه نظام الملک توسی، تبریز

۲۴. رصدخانه مراغه به همت و دستور ساخته شد.

- (۱) خواجه نصیرالدین طوسی، هلاکو (۲) خواجه نصیرالدین طوسی، پسر شاهرخ
(۳) خواجه رشیدالدین فضل الله، پسر شاهرخ (۴) خواجه رشیدالدین فضل الله، هلاکو

۲۵. با توجه به موقعیت قاره‌ها در کره جغرافیایی، کدام قاره‌ها از هم دورترند؟

- (۱) آسیا، اروپا (۲) آسیا، آمریکا (۳) آسیا، آفریقا (۴) آسیا، استرالیا

۲۶. متراکم ترین منطقه جهان از نظر جمعیت چه نام دارد و مهم ترین کشور صنعتی آسیا کدام است؟

- (۱) جزیره جاوه در اندونزی، چین (۲) کشور چین، ژاپن
(۳) کشور چین، چین (۴) جزیره جاوه در اندونزی، ژاپن

۲۷. کدام یک جزو کشورهای تولیدکننده برنج به شمار می‌رود؟

- (۱) هند (۲) افغانستان (۳) یمن (۴) ترکیه

۲۸. منطقه جنوب غربی آسیا را می‌توان درون یک مثلث جای داد. کدام یک از مناطق زیر، جزو رئوس این مثلث نیست؟

- (۱) باب‌المندب (۲) کوه‌های پامیر (۳) تنگه بسفر (۴) تنگه هرمز

۲۹. ویژگی‌های آب و هوای مدیترانه‌ای چگونه است؟

- (۱) زمستان معتدل، تابستان گرم و خشک (۲) زمستان معتدل، تابستان گرم و شرجی
(۳) زمستان سرد، تابستان گرم و خشک (۴) زمستان سرد، تابستان گرم و شرجی

۳۰. کدام گروه همگی جزو کشورهای عمده صادرکننده نفت در منطقه جنوب غربی آسیا هستند؟

- (۱) عربستان، امارات متحده عربی، افغانستان (۲) عراق، پاکستان، عربستان
(۳) ایران، عراق، کویت (۴) سوریه، کویت، امارات متحده عربی



۳۱. جنوب غربی آسیا منطقه‌ای پرتنش است. کدام مورد جزو علت این تنش‌ها نمی‌باشد؟

- (۱) وجود منابع انرژی
 (۲) وجود رژیم اشغالگر قدس
 (۳) وجود حکومت‌های وابسته به قدرت‌های بزرگ
 (۴) نبود راه‌های حمل و نقل دریایی
۳۲. قلّه کوه‌ها، در رشته کوه‌های آلپ و دره‌های آن است. در این منطقه
- (۱) نوک تیز، باز، آتشفشان رخ نمی‌دهد.
 (۲) نوک تیز، تنگ، آتشفشان رخ می‌دهد.
 (۳) گنبدی، باز، آتشفشان رخ نمی‌دهد.
 (۴) گنبدی، تنگ، آتشفشان رخ می‌دهد.

ریاضی (زمان: ۲۵ دقیقه)

۳۳. ساده شده کسر $\frac{(ab^2)^3 a^5}{a^4 b^2}$ کدام گزینه است؟

- (۱) $a^4 b$ (۲) $a^4 b^4$ (۳) $a^5 b^3$ (۴) $a^6 b^2$

۳۴. میانگین نمرات ۱۰ درس یک دانش‌آموز $\frac{16}{5}$ است. مجموع نمرات این دانش‌آموز کدام است؟

- (۱) ۱۶۵ (۲) ۱۶۰ (۳) ۱۵۰ (۴) ۱۵۵

۳۵. کدام گزینه درست است؟

- (۱) $\frac{\text{طول دسته}}{\text{تعداد دسته}} = \text{دامنه تغییرات}$
 (۲) کم‌ترین داده - بیش‌ترین داده = دامنه تغییرات
 (۳) تعداد دسته \times طول دسته = دامنه تغییرات
 (۴) گزینه‌های ۲ و ۳

۳۶. با توجه به جدول $2x + 3y$ کدام گزینه است؟

متوسط x فراوانی	متوسط دسته	فراوانی	حدود دسته
۱۳۰	y	x	$6 \leq x < 20$

- (۱) ۲۳
 (۲) ۳۳
 (۳) ۴۹
 (۴) ۵۹

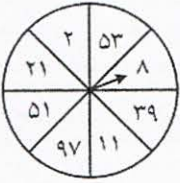
۳۷. اگر $3^x + (-17) = 10$ ، آن‌گاه مقدار 8^{x-1} کدام است؟

- (۱) ۶۴ (۲) ۸ (۳) ۱۶ (۴) ۳۲





۳۸. در شکل زیر احتمال این که عقربه چرخنده روی عددهای اول بایستد، کدام است؟



(۴) تصویری

$$\frac{4}{8} \quad (2)$$

$$\frac{2}{8} \quad (4)$$

$$\frac{5}{8} \quad (1)$$

$$\frac{3}{8} \quad (3)$$

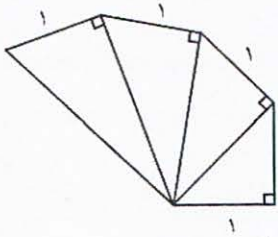
۳۹. کدام نمودار برای نشان دادن تغییرات در یک مدت مشخص به کار می‌رود؟

(۳) خط شکسته

(۲) میله‌ای

(۱) دایره‌ای

۴۰. در شکل مقابل پاره‌خطی با کدام طول دیده نمی‌شود؟



$$\sqrt{5} \quad (1)$$

$$2 \quad (2)$$

$$3 \quad (3)$$

$$\sqrt{2} \quad (4)$$

۴۱. در کدام یک از گزینه‌های زیر جذر عدد از خود عدد بزرگ‌تر است؟

$$\sqrt{10} - \sqrt{3} \quad (4)$$

$$3\sqrt{7} - 7 \quad (3)$$

$$\sqrt{5} - \sqrt{6} \quad (2)$$

$$2\sqrt{35} - 10 \quad (1)$$

۴۲. حاصل عبارت $(2^4 + 2^4 + 2^4 + 2^4 + 2^4)(5^4 + 5^4)$ کدام گزینه است؟

$$1000000 \quad (4)$$

$$1000000 \quad (3)$$

$$10000 \quad (2)$$

$$100000 \quad (1)$$

۴۳. $\sqrt{34}$ تقریباً برابر کدام گزینه است؟

$$5/1 \quad (4)$$

$$5/7 \quad (3)$$

$$5/8 \quad (2)$$

$$6/1 \quad (1)$$

۴۴. عدد $2^1 \times 3^2$ چندمین عدد طبیعی زوج است؟

(۴) بیش از ۵۰۰۰ آمین

(۳) ۴۶۱۰ آمین

(۲) ۴۶۰۸ آمین

(۱) ۴۶۰۷ آمین

۴۵. حاصل عبارت $\sqrt{\frac{36 \times 0.4}{144}}$ کدام است؟

$$1/2 \quad (4)$$

$$\frac{1}{100} \quad (3)$$

$$\frac{1}{\sqrt{10}} \quad (2)$$

$$\frac{1}{10} \quad (1)$$



۴۶. داده‌های آماری در ۹ طبقه به طول دسته ۴، طبقه‌بندی شده‌اند، اگر بیش‌ترین داده ۶۰ باشد. کم‌ترین داده کدام است؟

- ۳۶ (۱) ۲۴ (۲) ۳۰ (۳) ۱۸ (۴)

۴۷. اگر $17^{y+\frac{1}{2}} = 13^{2x-3}$ ، آن‌گاه مقدار $x+y$ کدام است؟

- ۱ (۴) صفر (۳) $\frac{-1}{2}$ (۲) $\frac{1}{2}$ (۱)

۴۸. اگر ابعاد مستطیلی 5^{2a+1} و 5^{2b-3} باشد به طوری که $a+b=2$ ، آن‌گاه مساحت مستطیل کدام است؟

- ۱۰ (۱) ۲۵ (۲) ۱۲۵ (۳) ۵۰ (۴)

۴۹. از کیسه‌ای حاوی ۴۵ مهره، مهره‌ای را به طور تصادفی بیرون می‌آوریم. احتمال قرمز بودن مهره، $\frac{4}{10}$ است. چند تا از مهره‌ها قرمز نیستند؟

- ۳۰ (۱) ۱۸ (۲) ۲۷ (۳) ۲۸ (۴)

۵۰. میانگین عددهای $3, 10, 8, \dots, -2, -7$ کدام است؟

- ۴۸ (۱) ۵۰ (۲) ۵۳ (۳) ۵۸ (۴)

۵۱. کدام عدد از بقیه کوچک‌تر است؟

- ۷۲۰۰ (۱) ۶۳۰۰ (۲) ۵۴۰۰ (۳) ۴۵۰۰ (۴)

۵۲. در یک آمارگیری تعدادی دسته با طول ۶ داریم. اگر کم‌ترین مقدار داده‌ها ۱۲ و بیش‌ترین مقدار ۶۶ باشد، تعداد دسته‌ها چقدر است؟

- ۸ (۱) ۹ (۲) ۱۰ (۳) ۱۲ (۴)

عربی (زمان: ۸ دقیقه)

۵۳. برای ترکیب «فی الشهر القادم» کدام عبارت پرسشی مناسب است؟

- (۱) أين تذهبان أيتها المرأتان؟
(۲) متى تذهبون إلى السوق الكبير؟
(۳) هل تكتبين واجباتك الدراسية؟
(۴) أتعلم في المزرعة؟

۵۴. ترجمه عبارت «لا يظلم ريبك أحداً» کدام است؟

- (۱) پروردگارا به کسی ظلم نکردم.
(۲) پروردگارت ظلم نکرد.
(۳) پروردگار به کسی ظلم نمی‌کند.
(۴) پروردگارت به کسی ظلم نمی‌کند.

۵۵. معنای کدام فعل نادرست است؟

- (۱) غَسَلْتُنَّ: شستید (۲) سَيَفْهَمُ: خواهد فهمید (۳) أَلْبَسُ: می‌پوشم (۴) لَاتَنْصُرُ: یاری نکرد

۵۶. در کدام گزینه فعل به صورت مضارع آمده است؟

- (۱) فِي يَوْمٍ مِنَ الْأَيَّامِ هَجَمَتْ خَمْسَةُ ذَنَابٍ عَلَى الْغَزْلَانِ.
(۲) الْغَزَالَةُ الصَّغِيرَةُ شَاهَدَتْ عَصْفُورًا.
(۳) فِي يَوْمِ الثَّانِي تَخَرَجَ الْعَصْفُورَةُ مِنَ الْعُشِّ.
(۴) صَاحِبُ الْمَرْعَةِ طَلَّبَ الْمَسَاعِدَةَ مِنْ جِيرَانِهِ.

۵۷. ترجمه کدام کلمه نادرست است؟

- (۱) عُشٌّ: لانه (۲) ضِيَاةٌ: مهمانی (۳) ذَنَابٌ: گرگ (۴) وَحِيدٌ: تنها

۵۸. کدام گزینه پاسخ مناسب عبارت پرسش زیر است؟

«أَيُّهَا الطَّلَابُ! مَتَى تَلْعَبَانِ كُرَةَ الْقَدَمِ؟»

- (۱) أَمْسَ (۲) غَدًا (۳) فِي الشَّهْرِ الْمَاضِي (۴) قَبْلَ سَنَتَيْنِ

۵۹. ترجمه مقابل کدام عبارت نادرست است؟

- (۱) «الْغَزَالَةُ الصَّغِيرَةُ مَا يَتَسَتُّ»: آهوی کوچک ناامید نشد.
(۲) «عِنْدَمَا يَعْتَمِدُ الْإِنْسَانُ عَلَى نَفْسِهِ يَقْدِرُ عَلَى كُلِّ شَيْءٍ»: هنگامی که انسان بر خودش اعتماد می‌کند بر هر چیزی قادر است.
(۳) «الطَّالِبَاتُ سَأَلْنَ حَوْلَ عِلْمِ الْكِيمِيَاءِ»: دانش‌آموز درباره علم شیمی سؤال کردند.
(۴) «إِنَّ اللَّهَ جَمِيلٌ وَ يُحِبُّ الْجَمَالَ»: قطعاً خداوند زیباست و زیبایی را دوست دارد.

۶۰. پرسش و پاسخ کدام گزینه درست است؟

- (۱) مَتَى وَصَلْتُمْ إِلَى الْفَنْدَقِ؟ بِالسَّيَّارَةِ
(۲) مَتَى تَرْجِعِينَ إِلَى هُنَا؟ أَمْسَ
(۳) مَاذَا تَفْعَلْنَ أَيُّهَا الطَّالِبَاتُ؟ نَصْنَعُ بَيْتًا خَشِيئًا
(۴) مَتَى تَبْدَأُ الْإِمْتِحَانَاتُ؟ فِي الْمَدْرَسَةِ

فارسی (زمان: ۱۵ دقیقه)

۶۱. معنی واژه‌های مشخص شده در کدام گزینه، به درستی نیامده است؟

- (۱) شیر حق را دان منزّه از دغل (مکر و فریب)
(۲) ای وطن، ای دل مرا مأوا (پناهگاه)
(۳) از علی آموز اخلاص عمل (پاک نیت)
(۴) در راه طرّاری به وی باز خورد (دزد)

۶۲. در گروه کلمات زیر، چند غلط املایی به کار رفته است؟

- «حامیان دشمن، همت و اراده، قدرت کاذب، غزا و جنگ، غرقه بهر بلا، متواضع و فروتن، عزت و افتخار»
(۱) یک (۲) دو (۳) چهار (۴) سه

۶۳. کدام گزینه، نادرست است؟

- (۱) زبان، عامل انسجام همه اقوام یک سرزمین است.
(۲) نخستین ابزار پیدایش ادبیات، خط است.
(۳) ادبیات، بیان حال یک جامعه است.
(۴) زبان هر جامعه در هر دوره‌ای، نماینده فکر و فرهنگ همان روزگار است.



۶۴. در بیت: «گشت حیران آن مبارز، زین عمل / وز نمودن عفو و رحم بی محل» چند صفت اشاره به کار رفت؟
 (۱) دو (۲) سه (۳) یک (۴) چهار
۶۵. در مصراع «از علی آموز اخلاص عمل» اجزای جمله به ترتیب، در کدام گزینه آمده است؟
 (۱) مسند، فعل، نهاد (۲) متمم، فعل، مفعول (۳) متمم، فعل، نهاد (۴) نهاد، فعل، مفعول
۶۶. هسته در کدام گزینه، به درستی مشخص شده است؟
 (۱) عامل ترقی جوانان (۲) آن خسرو بی لشکر و یاور (۳) هوای آلوده شهر ما (۴) سه تخته پتوی نرمینه
۶۷. کاربرد کنایه در کدام گزینه، به درستی آمده است؟
 (۱) هر گاه بخواهیم درباره مطلبی به طور غیرمستقیم حرف بزنیم.
 (۲) وقتی بخواهیم مطلب طنزی بیان کنیم.
 (۳) هنگامی که بخواهیم دو برداشت از یک جمله داشته باشیم.
 (۴) موقعی که بخواهیم با طعنه زدن، موضوع ناخوشایندی را مطرح کنیم.
۶۸. آرایه کدام عبارت، نادرست است؟
 (۱) دل‌سپاری رهبر و مردم، این دو را به هم پیوند زد. (کنایه)
 (۲) کلید شناخت هر ملتی، ادبیات آن ملت است. (کنایه)
 (۳) مقصود از ادبیات، آینه فرهنگ و اندیشه یک جامعه است. (تشبیه)
 (۴) وقتی شما به یک اثر ادبی مانند شاهنامه، گلستان و مثنوی رو می‌کنید... (مراعات نظیر)
۶۹. مفهوم بیت: «شیر حقم، نیستم شیر هوا / فعل من بر دین من باشد گوا» به کدام گزینه نزدیک‌تر است؟
 (۱) رفتار من اعتقاد را محکم می‌کند. (۲) کار من نشانه اعتقاد من است.
 (۳) هوا و هوس در من نیست. (۴) شمشیر را در اعتقاد من راهی نیست.
۷۰. در همه گزینه‌ها صفت پرسشی آمده است به جز...
 (۱) به کدامین گناه کشته شد
 (۲) چه خیال‌ها گذر کرد و گذر نکرد خوابی
 (۳) چه مطلبی را برایم نوشتی
 (۴) کدام شاعر را بیش‌تر می‌پسندی
۷۱. کدام‌یک از آثار زیر، از سلمان هراتی نیست؟
 (۱) دری به خانه خورشید (۲) از آسمان سبز
 (۳) در کوچه آفتاب (۴) از این ستاره تا آن ستاره
۷۲. واژه «پوپک» به چه معناست؟
 (۱) پروانه (۲) هدهد (۳) گل خوشبو (۴) بلبل
۷۳. کدام بیت با بقیه ارتباط معنایی کم‌تری دارد؟
 (۱) دریغ است ایران که ویران شود
 (۲) اگر سر به سر تن به کشتن دهیم
 (۳) ای وطن، ای تو نور و ماهمه چشم
 (۴) چو ایران نباشد تن من مباد
 کنام پلنگان و شیران شود
 از آن به که کشور به دشمن دهیم
 ای وطن، ای تو جان و ماهمه تن
 بدین بوم و بر زنده یک تن مباد



۷۴. در کدام گزینه، هم خانواده به درستی نیامده است؟

- (۱) اخلاص، خلوص، خالص
(۳) مرحمت، تحریم، مراسم
(۲) مراجعه، ارجاع، رجعت
(۴) فنا، فنایی، فانی

۷۵. شعرهای میهنی با چه هدفی سروده می‌شوند؟

- (۱) برای بیان حس غرور و عظمت و افتخار ملی
(۳) برای رهایی وطن از دست بیگانگان
(۲) برای اثبات برتری نژادی و فرهنگی
(۴) برای آشنایی نسل‌های بعد با ادبیات اصیل فارسی

قرآن و پیام‌های آسمان (زمان: ۱۰ دقیقه)

۷۶. ترجمه کدام عبارت درست است؟

- (۱) ما يَعْرُجُ فِيهَا: آنچه بالا می‌برد در آن
(۳) يُؤَلِّجُ اللَّيْلَ فِي النَّهَارِ: داخل می‌کند روز را در شب
(۲) ما يَلْجُ فِي الْأَرْضِ: آنچه فرو می‌رود در زمین
(۴) و ما يَنْزِلُ مِنَ السَّمَاءِ: و آنچه نازل می‌کند از آسمان

۷۷. جمله زیر، ترجمه کدام عبارت قرآنی است؟

- «ای مردم! نعمت خداوند بر خود را یاد کنید.»
(۱) یا أَيُّهَا النَّاسُ تَذَكَّرُوا نِعْمَتَ اللَّهِ إِلَيْكُمْ
(۳) یا أَيُّهَا النَّاسُ اذْكُرُوا نِعْمَتَ اللَّهِ عَلَيْكُمْ
(۲) یا أَيُّهَا النَّاسُ تَذَكَّرُوا نِعْمَتَ اللَّهِ عَلَيْكُمْ
(۴) یا أَيُّهَا النَّاسُ اذْكُرُوا نِعْمَتَ اللَّهِ إِلَيْكُمْ

۷۸. ترجمه عبارت «ما لِي لَا أَعْبُدُ الَّذِي فَطَرَنِي» کدام است؟

- (۱) چرا عبادت نکرده‌ام کسی را که مرا آفرید.
(۳) چرا من عبادت نکنم کسی را که مرا پدید آورد.
(۲) تقصیر من نیست که عبادت نمی‌کنم کسی را که مرا پدید آورد.
(۴) تقصیر من نیست پس عبادت نمی‌کنم کسی را که مرا آفرید.

۷۹. ترجمه کدام گزینه درست است؟

- (۱) إِنَّهُ مِنْ عِبَادِنَا الْمُؤْمِنِينَ: همانا او از بندگان ما مؤمنان است.
(۲) إِنَّهُ مِنْ عِبَادِنَا الْمُؤْمِنِينَ: همانا او از بندگان مؤمن ما است.
(۳) نَجْزِي الْمُحْسِنِينَ: ما به بندگان نیکوکار جزا دادیم.
(۴) نَجْزِي الْمُحْسِنِينَ: نیکوکاران را جزا بدهید.

۸۰. معنی درست کلمه «إِتَّخِذُوا» در کدام گزینه آمده است؟

- (۱) بگیرند (۲) بگیرد (۳) می‌گیرند (۴) گرفتند

۸۱. پیامبر اسلام (ص) انجام چه کاری را از ساعت‌های طولانی عبادت کردن، برتر دانسته است؟

- (۱) نیکی کردن و عمل به آن
(۳) اندیشیدن در نشانه‌های خداوند
(۲) برنامه‌ریزی و اولویت‌بندی کارها
(۴) هم‌نشینی با صالحان و نیکوکاران



۸۲. کدام گزینه، معادل عبارت قرآنی «وای بر کم‌فروشان»، است؟
- (۱) وَيْلٌ لِّكُلِّ هُمَزَةٍ لُّمَزَةٍ (۲) وَيْلٌ لِّلْمُطَفِّفِينَ (۳) وَيْلٌ لِّكُلِّ أَفَّاكٍ أَثِيمٍ (۴) وَيْلٌ لِّلْمُضِلِّينَ
۸۳. بر اساس سخن رسول خدا (ص)، عبادت جزء دارد که نه جزء آن است.
- (۱) یازده، توبه از گناهان (۲) ده، نیکی به دیگران (۳) یازده، عبادت خداوند (۴) ده، کار و کسب حلال
۸۴. بر اساس سخن امام صادق (ع)، آنچه گناهان را پاک می‌کند، است.
- (۱) کارهای نیک (۲) کسب حلال (۳) انفاق (۴) مردن در هنگام کار
۸۵. خداوند در مجازات ، کارهای نیکش را به حساب کسی که می‌نویسد.
- (۱) دروغگو، به او دروغ گفته است (۲) ناسزاگو، به او ناسزا گفته است (۳) غیبت‌کننده، از او غیبت شده است (۴) تهمت‌زننده، به او تهمت زده شده است

داوطلب گرامس

لطفاً شماره داوطلبی خود را به خاطر بسپارید. ساعاتی پس از برگزاری آزمون می‌توانید با وارد کردن شماره داوطلبی در سایت www.mobtakeran.com کارنامه خود را مشاهده کنید.



